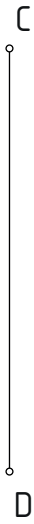




1.- Dibuja el **óvalo** conocido su **eje menor CD**.



2.- Traza el **óvalo** conocido su **eje mayor AB**.



3.- Dibuja el **ovoide** conocido su **eje menor CD**.



4.- Traza el **ovoide** conocido su **eje mayor AB**.

