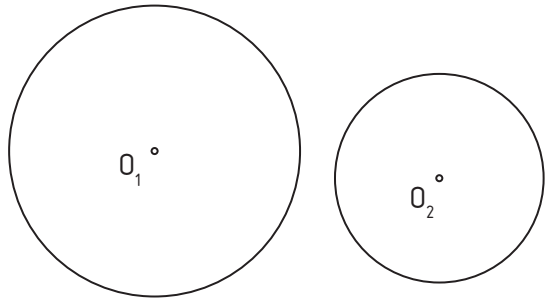
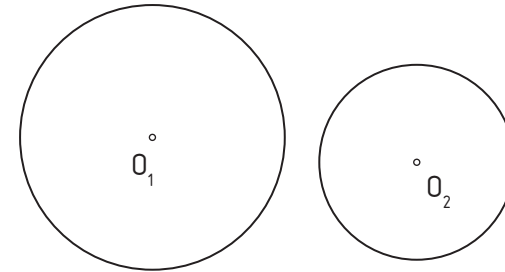


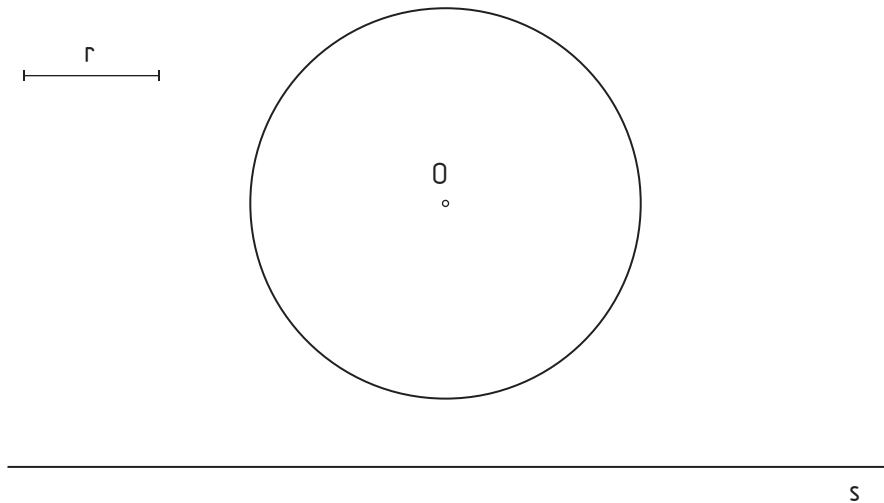
1.- Dibuja una circunferencia de **radio 20 mm**, tangente exterior a las circunferencias dadas.



2.- Las circunferencias dadas son tangentes interiores de una circunferencia de radio 50 mm, halla esta circunferencia.



3.- Trazar las circunferencias de radio r tangentes a la recta s y a la circunferencia O .



4.- Hallar las circunferencias tangentes a la recta r y a la circunferencia O en el punto T .

