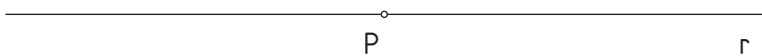
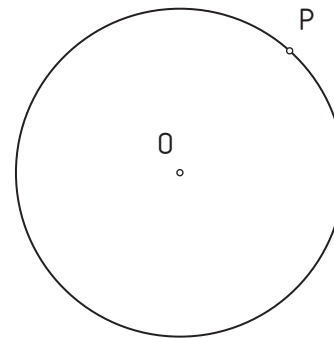



1.- Dibuja una circunferencia tangente a la recta r que pase por el punto P de la misma. Radio 30 mm.



2.- Traza una recta tangente a la circunferencia O por el punto P de la misma.



3.- Hallar las circunferencias de **radio 25 mm** tangentes a la recta r y que pasen por el punto P .



4.- Halla la circunferencia de **radio 30 mm** tangente a la circunferencia O por el punto P .

