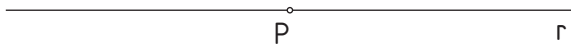
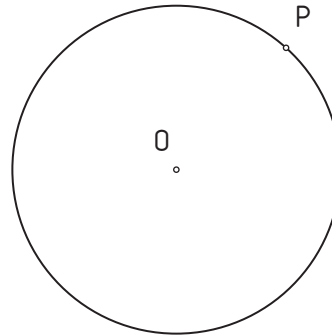


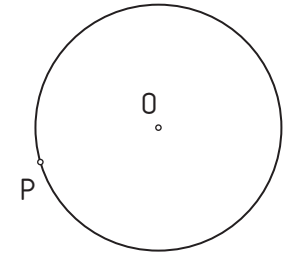
1.- Dibuja una circunferencia tangente a la recta r en el punto P con un radio de **25 mm**.



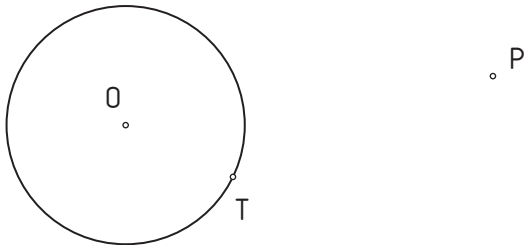
2.- Traza la recta tangente a la circunferencia O por el punto P de la misma.




3.- Dibuja la circunferencia de **radio 25 mm**. tangente exterior a la circunferencia O en el punto P .



4.- Hallar la circunferencia tangente a la circunferencia O en el punto T y que pase por el punto P .



5.- Dibuja una circunferencia que pase por los puntos A , B y C .



6.- Hallar las circunferencias de **radio 20 mm**. tangentes a la recta r y que pasen por el punto P .

