




1.- Construye el **triángulo** regular dado el lado **AB**.



2.- Dibuja el **cuadrado** regular conocido el lado **AB**.



3.- Construye el **hexágono** regular dado el lado **AB**.



4.- Dibuja el **octógono regular** dado el lado **AB**.

