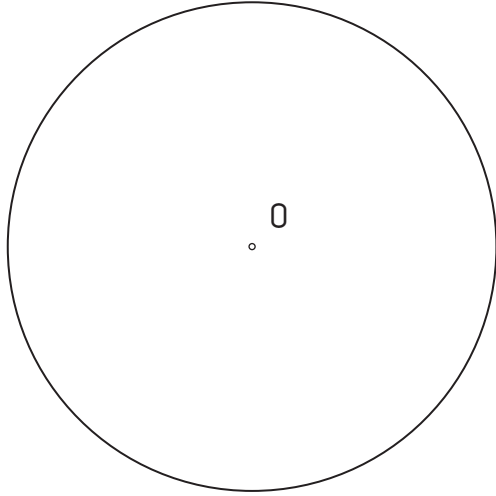
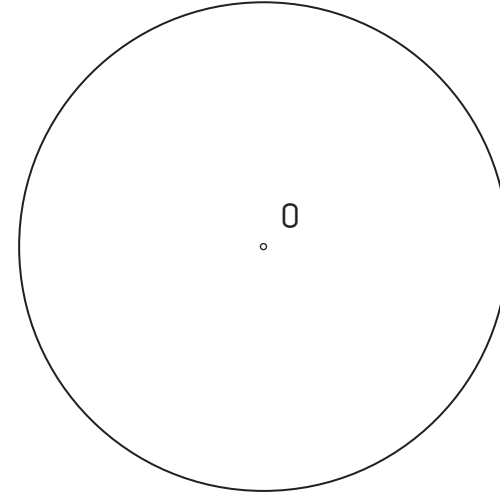


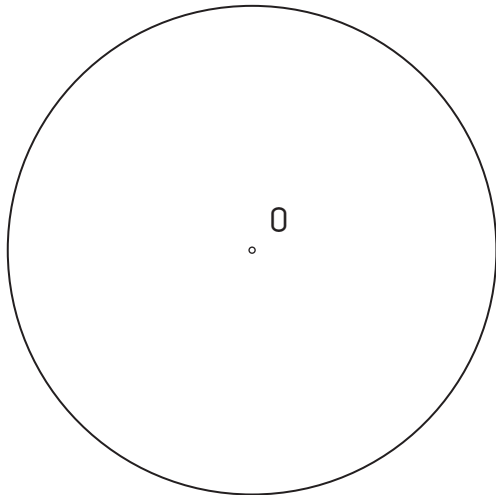
1.- Dibuja el **triángulo** y **hexágono** regular inscritos en la circunferencia dada.



2.- Dibuja el **cuadrado** y el **octógono** inscritos en la circunferencia dada.



3.- Dibuja el **pentágono** y el **decágono** regular inscritos en la circunferencia dada.



4.- Dibuja el **heptágono** regular inscrito en la circunferencia dada.

