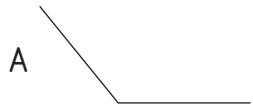
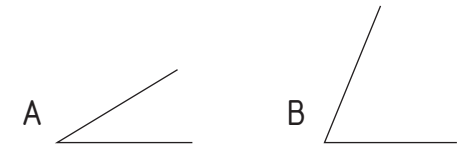



1.- Transporta el ángulo **A** sobre el extremo **A** de la recta **r**.



2.- Sobre el extremo **P** de la recta **r**, indica el ángulo resultado de la suma de los ángulos **A** y **B** dados: **A + B**.



3.- Sobre el extremo **P** de la recta **r**, indica el ángulo resultado de la resta de los ángulos **A** y **B** dados: **A - B**.



4.- Sobre el extremo **P** de la recta **r**, indica el ángulo resultado de la siguiente operación: **A + B - C**.

