




1.- Copia el segmento **AB** sobre la recta **r**, a partir del punto **A** dado.



2.- Sobre la recta **r**, indica el segmento resultado de la suma de los segmentos **AB** y **CD** dados: **AB + CD**.



3.- Sobre la recta **r**, indica el segmento resultado de la resta de los segmentos **AB** y **CD** dados: **AB - CD**.



4.- Sobre la recta **r**, indica el segmento resultado de la siguiente operación: **AB + CD - EF**.

